

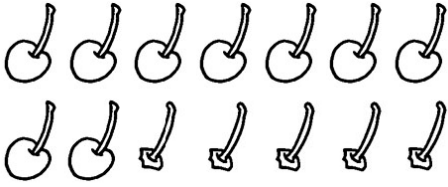
聖瑪大肋納學校

頁一 3月23日停課期間學生數學科自學工作紙(一) 年級：小一()

姓名：_____ 學號：_____


一、依圖意填一填。

1) 還有櫻桃多少顆？




$$14 - 5 = \boxed{} \text{ (顆)}$$

2) 還有水多少杯？






$$12 - \boxed{} = \boxed{} \text{ (杯)}$$

3)  比  多幾隻？



$$\boxed{} - \boxed{} = \boxed{} \text{ (隻)}$$

4)  和  的數量相差多少隻？



$$\boxed{} - \boxed{} = \boxed{} \text{ (隻)}$$

二、計算下面各題。

| | | | |
|-------------------------------|--|-------------------------------|--|
| 1) $13 - 5$ $=$ | | 2) $16 - 9$ $=$ | |
| 3) $16 - 4 - 7$ $=$ $=$ | | 4) $17 - 8 - 9$ $=$ $=$ | |

三、應用題：列式解答下面各題。

1) 教室內有男學生 11 位，男學生比女學生多 3 位，教室內有女學生多少位？

| | | | | | | | | | | | | | |
|--|---|--|--|--|--|--|--|--|--|--|--|--|--|
| 解： 答：教室內有女學生_____位。 | <table border="1" style="width: 100%; height: 100%; border-collapse: collapse;"> <tr><td style="width: 33%; height: 20px;"></td><td style="width: 33%; height: 20px;"></td><td style="width: 33%; height: 20px;"></td></tr> <tr><td style="width: 33%; height: 20px;"></td><td style="width: 33%; height: 20px;"></td><td style="width: 33%; height: 20px;"></td></tr> <tr><td style="width: 33%; height: 20px;"></td><td style="width: 33%; height: 20px;"></td><td style="width: 33%; height: 20px;"></td></tr> <tr><td style="width: 33%; height: 20px;"></td><td style="width: 33%; height: 20px;"></td><td style="width: 33%; height: 20px;"></td></tr> </table> | | | | | | | | | | | | |
| | | | | | | | | | | | | | |
| | | | | | | | | | | | | | |
| | | | | | | | | | | | | | |
| | | | | | | | | | | | | | |

2) 泳霖有 17 元，買擦膠用去 5 元，買間尺用去 8 元，她還有多少元？

| | | | | | | | | | | | | | | | | |
|------------------------------------|--|--|--|--|--|--|--|--|--|--|--|--|--|--|--|--|
| 解： 答：她還有_____元。 | <table border="1" style="width: 100%; height: 100%; border-collapse: collapse;"> <tr><td style="width: 33%; height: 20px;"></td><td style="width: 33%; height: 20px;"></td><td style="width: 33%; height: 20px;"></td></tr> <tr><td style="width: 33%; height: 20px;"></td><td style="width: 33%; height: 20px;"></td><td style="width: 33%; height: 20px;"></td></tr> <tr><td style="width: 33%; height: 20px;"></td><td style="width: 33%; height: 20px;"></td><td style="width: 33%; height: 20px;"></td></tr> <tr><td style="width: 33%; height: 20px;"></td><td style="width: 33%; height: 20px;"></td><td style="width: 33%; height: 20px;"></td></tr> <tr><td style="width: 33%; height: 20px;"></td><td style="width: 33%; height: 20px;"></td><td style="width: 33%; height: 20px;"></td></tr> </table> | | | | | | | | | | | | | | | |
| | | | | | | | | | | | | | | | | |
| | | | | | | | | | | | | | | | | |
| | | | | | | | | | | | | | | | | |
| | | | | | | | | | | | | | | | | |
| | | | | | | | | | | | | | | | | |

3) 家中有牛奶一打，曉亮兩姊妹各人喝去 3 盒，還有牛奶多少盒？

| | | | | | | | | | | | | | | | | |
|-------------------------------------|--|--|--|--|--|--|--|--|--|--|--|--|--|--|--|--|
| 解： 答：還有牛奶_____盒。 | <table border="1" style="width: 100%; height: 100%; border-collapse: collapse;"> <tr><td style="width: 33%; height: 20px;"></td><td style="width: 33%; height: 20px;"></td><td style="width: 33%; height: 20px;"></td></tr> <tr><td style="width: 33%; height: 20px;"></td><td style="width: 33%; height: 20px;"></td><td style="width: 33%; height: 20px;"></td></tr> <tr><td style="width: 33%; height: 20px;"></td><td style="width: 33%; height: 20px;"></td><td style="width: 33%; height: 20px;"></td></tr> <tr><td style="width: 33%; height: 20px;"></td><td style="width: 33%; height: 20px;"></td><td style="width: 33%; height: 20px;"></td></tr> <tr><td style="width: 33%; height: 20px;"></td><td style="width: 33%; height: 20px;"></td><td style="width: 33%; height: 20px;"></td></tr> </table> | | | | | | | | | | | | | | | |
| | | | | | | | | | | | | | | | | |
| | | | | | | | | | | | | | | | | |
| | | | | | | | | | | | | | | | | |
| | | | | | | | | | | | | | | | | |
| | | | | | | | | | | | | | | | | |

四、趣味數學題。

1) 把 1、2、3、4、5 填入格中，使直行、橫行相加的結果都一樣。

