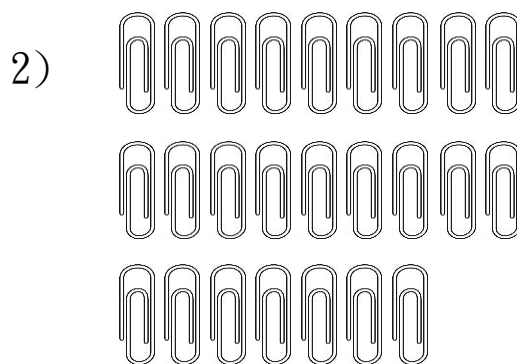



聖瑪大肋納學校

頁一 3月24日停課期間學生數學科自學工作紙(二) 年級:小二()

姓名: _____ 學號: _____

一、依題意，圈一圈，算一算。




$$22 \div 6 = \square \dots \square$$

$$25 \div 3 = \underline{\hspace{2cm}}$$

二、根據指示，回答下列各題。

1) 零食 15 包，平均分給 9 人，每人分得零食多少包？還餘零食多少包？連一連，填一填。



(a) 答：每人分得零食 _____ 包，還餘零食 _____ 包。

(b) 用除式表示：_____。

三、用直式計算下列各題。

<p>1) $29 \div 4$</p> <p>=</p>	<p>2) $39 \div 9$</p> <p>=</p>
---	---

<p>3) $75 \div 8$</p> <p>=</p>		<p>4) $61 \div 7$</p> <p>=</p>	
---	--	---	--

四、小探究。

1) 算一算下面的除式。

(a) $13 \div 3 =$ _____
 $14 \div 3 =$ _____
 $15 \div 3 =$ _____
 $16 \div 3 =$ _____
 $17 \div 3 =$ _____
 $18 \div 3 =$ _____

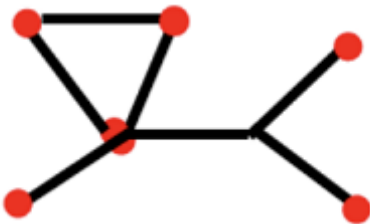
(b) $20 \div 5 =$ _____
 $21 \div 5 =$ _____
 $22 \div 5 =$ _____
 $23 \div 5 =$ _____
 $24 \div 5 =$ _____
 $25 \div 5 =$ _____

2) 比較上面各除式中的除數和餘數，你有什麼發現？說一說。

答：_____。

五、趣味題：動手玩木棒遊戲，擺擺看，並在空白處繪畫答案。

1) 移動下圖的兩根木棒，使小狗能夠調頭走路。



2) 移動下圖的兩根木棒，使小兔子能吃到紅蘿蔔。(注意紅蘿蔔的位置不變)

